

顺义区小学 2023~2024 学年度第一学期三年级数学期末参考试卷（时间：60 分钟）

学校

班级

姓名

等级

一、单选题，将正确答案前的字母填在括号里。

(1) 红丝带长 2 分米，蓝丝带长 21 厘米，黄丝带长 1 分米 8 厘米。( ) 最长。

- A. 蓝丝带      B. 黄丝带      C. 红丝带

(2) 过新年，公园布置花灯展览区，一条灯带正好可以围成一个长方形展览区（如下图），用同样长的灯带围一个最大的正方形展览区，边长是（ ）米。



- A. 24      B. 12      C. 6

(3)  $3\triangle\triangle\times 2$  的积不可能是（ ）。

- A. 636      B. 800      C. 700

(4) 游泳队集训，小强每天游 12 圈，比小冬多游 3 圈，照这样小冬 5 天游多少圈？列式正确的是（ ）。

- A.  $12\times 5+3\times 5$   
 B.  $(12+3)\times 5$   
 C.  $(12-3)\times 5$

(5) 计算  $\square 74\div 8$ ，如果商是三位数，被除数百位上最小是（ ）。

- A. 8      B. 7      C. 1

(6) 学校有 56 本《名人故事》。东东发现：《格林童话》的本数是《名人故事》的 3 倍；萍萍发现：《格林童话》比《名人故事》多 112 本。学校的《名人故事》和《格林童话》一共有（ ）本。

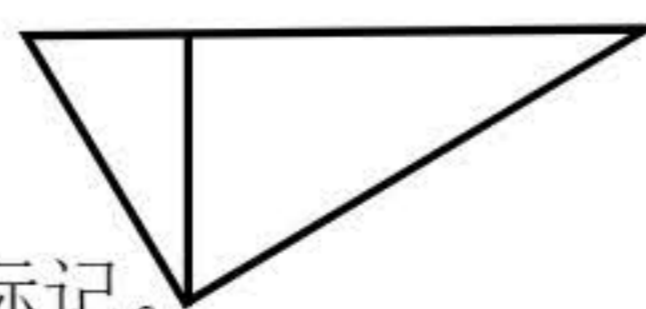
- A. 168      B. 224      C. 336

二、口算。

- (7)  $40\times 3=$        $84\div 4=$        $8\times 12=$   
 $13\times 5=$        $39\div 3=$        $24\div 2=$   
 $72\div 9=$        $20\times 2=$        $4\times 25=$

三、填空。

(8) 右图中有（ ）个直角，请借助三角尺量一量，并做好直角标记。

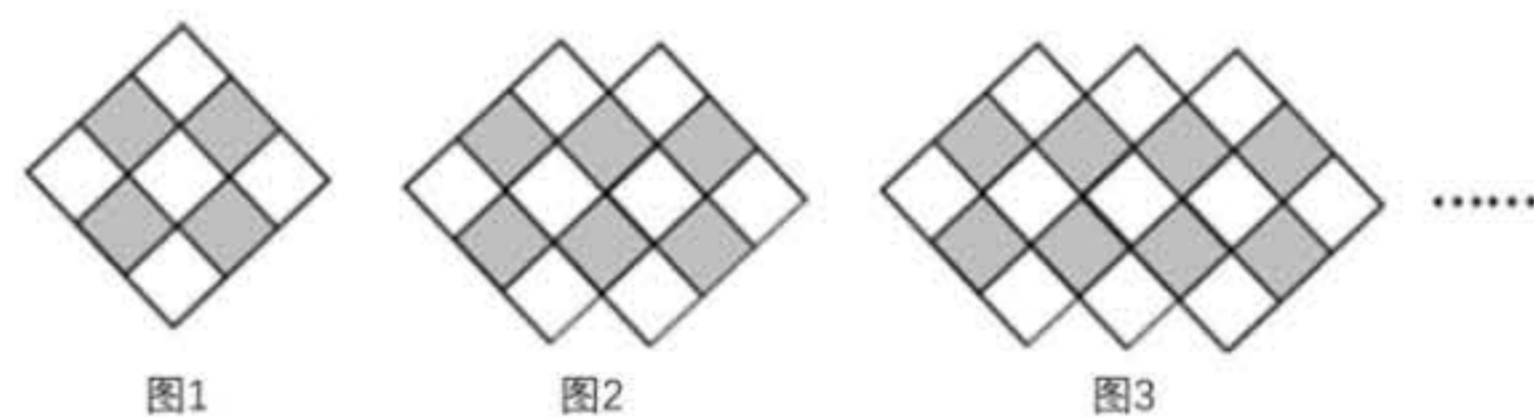


(9) 学校体育节，哥哥参加了 1 千米长跑项目，他在 200 米跑道跑 3 圈后，再跑（ ）米到达终点。

(10) 妈妈送给王蓉一本《稻草人》，几天后她看了 160 页，没看的比看了的少 30 页，这本书一共有（ ）页。

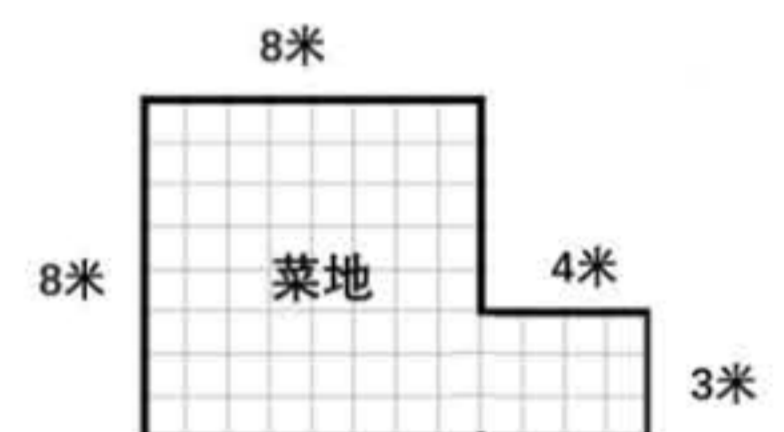
(11) 蛋糕店用一卷彩带捆扎蛋糕盒，第一天用去全长的一半，第二天用去余下的一半多 4 米，还剩 9 米，这卷彩带全长（ ）米。

(12) 根据下图中的规律，第五个图形中有（ ）个灰色小正方形。



(13) 学校把 32 个篮球摆放在置物架上，每 6 个篮球摆满一层，需要占用（ ）层。

(14) 王奶奶想给菜地围篱笆（如右图），要用（ ）米篱笆。



(15) 李祥和好朋友 10:00 到科技馆，决定观看《海狮：生存空间告急》，他们距离影片开始还有（ ）小时（ ）分。（影院放映信息见左图）

巨幕影院	
放映时间	影片名称
10:20	大熊雨林
14:50	海狮：生存空间告急
16:00	突破极限

生存空间告急》，他们距离影片开始还有（ ）小时（ ）分。（影院放映信息见左图）

(16) 填上合适的长度单位。

- ①北京六环路全长大约 187（ ）。  
 ②一张成人书桌高大约 800（ ）。

(17) 一张长方形卡纸，宽 6 厘米，长是宽的 3 倍。这张卡纸长（ ）厘米，周长是（ ）厘米。

四、计算下面各题。

- (18)  $360\div 8=$       (19)  $253\times 6=$

验算：

- (20)  $172-145+55$       (21)  $4\times (201-76)$

学校

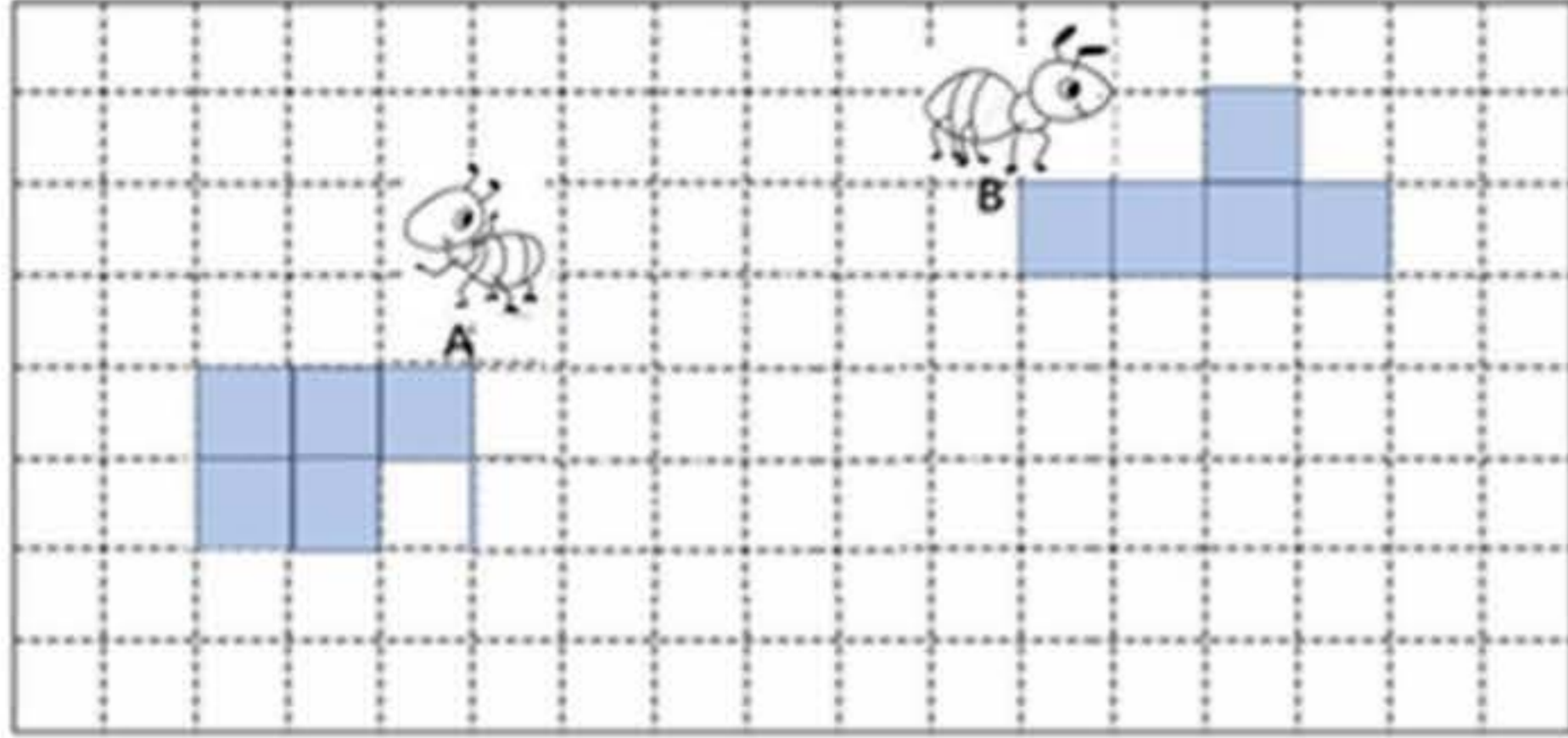
班级

姓名

等级

五、画图。

(22) A、B 两只小蚂蚁分别沿着下面两个图形的边线爬行一周。(图中每个小方格的边长表示 1cm)



- ① 在图中描出 A、B 两只小蚂蚁爬行的路线。
- ② 请你在方格纸的空白处画一个长方形，要求长方形的周长与 A 蚂蚁爬行路线同样长。

六、解答下面各题。

(23) 王叔叔称苹果，3 筐苹果连筐称一共 84 千克。如果每个空筐重 2 千克，苹果一共有多少千克？

(24) 学校开展“好书分享”活动，三(1)班给三(2)班 23 本书，两个班的书就同样多了。原来三(1)班的书比三(2)班多几本？(先画图，再解答)

(25) 丽丽、兰兰和芳芳去采摘草莓。采摘结束，丽丽给兰兰 3 颗，兰兰又给芳芳 2 颗，这时每人都有 20 颗草莓。兰兰原来有多少颗草莓？

(26) 王阿姨购买了 9 米长的彩绳编吉祥结。

① 编一个吉祥结用彩绳 105 厘米，编 4 个用多少厘米？

② 编 4 个吉祥结后，还想再编 6 个，彩绳够用吗？写出思考过程。

(27) 学校组织 112 名学生和 6 名教师参加社会大课堂活动，需要租车。

以下是三位同学的对话，谁的话有道理，请说明理由。

租车公司

大巴车限乘 56 人  
中巴车限乘 10 人

一辆大巴车可以乘坐 56 人，2 辆车可以乘坐  $56 \times 2 = 112$  (人)，参加社会大课堂的学生只有 112 人，正好都能坐下，所以租 2 辆大巴车就够了。

计算租几辆车得用  $112 + 6 = 118$  (人)， $118 - 56 = ?$  除数是两位数的除法，我们没学过，不会算。

可以租 2 辆大巴车和 1 辆中巴车。



强强



月月



天天

(28) 先提出问题，再解答。

玲玲和妈妈去野生动物园。买两张门票一共花了 240 元，玲玲的票价是妈妈的一半。\_\_\_\_\_？